

**ZÁKLADNÍ ŠKOLA ÚSTÍ NAD LABEM, HLAVNÍ 193, 403 31**

Tel.:472731819, 472731253 Tel.řed./fax:472731480, e-mail:skola@zsmojzir.cz

ÚKOLY 22. 2. – 26. 2. 2021 (5. A, 5. B)**Nezapomeň podepisovat všechny své papíry: jméno, příjmení a třídu****➤ ČESKÝ JAZYK**

- PS str. 32 cv. 1, 2, 3
str. 33 cv. 4, 5
str. 34 cv. 8, 9
- 5. A: čítanka str. 91 „Polednice“ + nakopírovaný text od K. J. Erbena
- 5. B: čítanka okopírováno

➤ MATEMATIKA

- učebnice str. 34 obvody obrazců (vzorečky nalepeny v sešitě), str. 34 cv. 4, 7 (nevypisuj pravoúhlé trojúhelníky, ale vypočítej obvod čtverce)
- PL: římské číslice (pomůže ti UČ str. 46)
procvičování násobení a dělení

➤ ANGLICKÝ JAZYK

- pracovní list

➤ PŘÍRODOVĚDA

- pracovní list – opakování učiva

➤ VLASTIVĚDA

- učebnice str. 22-23 „Manufaktura a parní stroje“ + pracovní list

➤ INFORMATIKA

- pracovní list

➤ HUDEBNÍ VÝCHOVA

- pracovní list

ÚKOLY ODEVZDAT V PONDĚLÍ 1.3.2021 MEZI 9 A 11 HODINOU ve vchodu 1. stupně**KDO NEBYL VE ŠKOLE, ODEVZDÁ HNĚDOU UČEBNICI VLASTIVĚDY.
DONESTE ŽAKOVSKOU KNÍŽKU.**

Možnost dalšího procvičování:

<https://sites.google.com/view/nametykprocvicovani/domovsk%C3%A1-str%C3%A1nka>

MATEMATIKA

ŘÍMSKÉ ČÍSLICE

1. Začneme od jednoduššího – spoj barevně arabské číslo se správným římským:

17	XIV
710	MCXXI
14	XLI
1121	MCMLIV
29	XVII
690	DCCX
41	XXIX
1954	DCXC

2. Přepiš na linky římské číslice v arabské (ty, co používáme běžně my).

Slovensko má V ___ sousedních států a žije tam přibližně V ___ milionů obyvatel. Už XVI ___ let je součástí EU, od roku MMIX _____ používají k placení eura. V roce MCMXVIII _____ bylo založeno společné Československo. Samostatná slovenská republika vznikla v roce MCMXCIII _____ . Slovensko se dělí na VIII ___ krajů a LXXIX _____ okresů. Nejvyšší hora Slovenska – Gerlachovský štít – měří MMDCLV _____ metrů.

1. Napiš si čísla pod sebe a písemně je vynásob:



$2684 \cdot 7$	$407857 \cdot 6$

2. Vydeľ písemne a proved' zkousku spravnosti:

a) $4238 : 5 =$

b) $23192 : 8 =$

3. Počítej z paměti:

$7 \cdot 6 =$	$28 : 4 =$	$37 + 23 =$	$45 - 7 =$
$5 \cdot 9 =$	$48 : 6 =$	$48 + 14 =$	$16 - 9 =$
$6 \cdot 4 =$	$72 : 9 =$	$53 + 39 =$	$42 - 15 =$
$8 \cdot 7 =$	$36 : 9 =$	$26 + 17 =$	$90 - 59 =$
$9 \cdot 6 =$	$64 : 8 =$	$22 - 3 \cdot 4 =$	$48 : 8 + 2 =$
$6 \cdot 8 =$	$42 : 7 =$	$4 + 5 \cdot 3 =$	$60 - 20 : 2 =$

ANGLICKÝ JAZYK

JMÉNO _____

- Tento týden se naučíme používat tzv. WH- questions.

1) Zapiš si do sešitu AJ**WHERE - KDE****WHAT - CO****WHO - KDO****WHY - PROČ****WHOSE - JEHOŽ, ČÍ**

Stejně jako v češtině i v angličtině máme na začátku otázek tázací zájmena. Na druhé straně pracovního listu se pokus správně doplnit tázací zájmena do vět (anglicky). Vždy si přečti zadání! Když nebudeš něčemu rozumět, tak použij překladač. ☺

Přeji vám krásný týden.

Questions & Answers

Complete the questions with "what" or "who":

- _____ is that woman over there? - She's my sister.
- _____ is that on the table? - It's my coat.
- _____ is going to the party with you? - My sister is.
- _____ are you doing now? - I'm resting.
- _____ is your favorite color? - It's blue.



Complete with "where" or "why":

- _____ is your mother from? - She's from Mexico.
- _____ are you here? - Because I have an English class now.
- _____ is your mother now? - She's at her office. She works from 9 to 6.
- _____ do you take Ann to school? - Because she had an accident and her car is at the garage.
- _____ are the Millers taking the subway? - Because the streets are all jammed.
- _____ do you go on weekends? - I go to Dino's to hang out with my friends.

Choose between "whose" and "who":

- _____ backpack is this? - It's Dona's.
- _____ gave you this wonderful blouse? - My mom did.
- _____ house are we going to visit first? - We're going to Mario's.
- _____ name was mentioned in the document? - Yours and mine.
- _____ will visit Grandma for the school? - Dad will.



Choose the correct interrogative pronoun:

_____ blouse do you want: the blue one or the pink one?

- a) whose b) what c) which

_____ does that CD player cost?

- a) how many b) how c) how much

_____ is your mother? - She's fine.

- a) how b) where c) how much

_____ is my pair of sunglasses?

- a) who b) where c) when

_____ are you going to leave? - At 5.

- a) where b) when c) where

_____ is your new teacher's name?

Ask a suitable answer for the answers:

1. _____

I have two sisters.

2. _____

I live downtown.



Téma: čtyřsměrka

Vyhledejte 10 pojmů z informatiky. Jedno písmeno př. S může být i pro více slov. Zbývající písmena (5) vyznačte a po řádcích запиšte tajenku do věty pod čtyřsměrkou (ŘEŠENÍ).

S	L	O	Ž	K	A	I	P
O	K	N	O	S	P	K	A
U	Š	O	K	I	U	O	CH
B	L	O	CH	D	L	N	O
O	A	T	Š	I	L	A	L
R	P	A	N	E	L	A	P

složka
okno
soubor
plocha
panel
ikona
~~koš~~
disk
lupa
lišta

ŘEŠENÍ



Po nastartování počítače a spuštění operačního systému Windows se zobrazí takzvaná pracovní _ _ _ _ _.

VLASTIVĚDA


Podpis: _____

1. Vylušti křížovku a doplň text:

Sdružení řemeslníků se nazývala . Svým členům určovaly délku ,
rozhodovaly o tom, jaké budou vyrábět a také o jejich



1. První koněspřežná železnice jezdila z Českých Budějovic do ...
2. V prvních manufakturách se nejvíce vyráběl ...
3. Zdokonalený pluh se nazýval ...
4. V první polovině 19. století začaly vznikat první ...

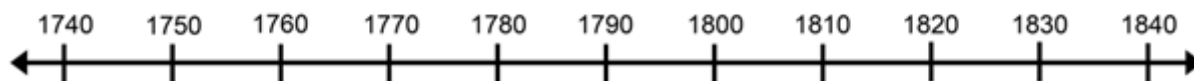


2. K vynálezům přiřad'te jména českých vynálezců.

parní automobil _____ bleskosvod _____
 lodní šroub _____ ruchadlo _____
 parní stroj _____

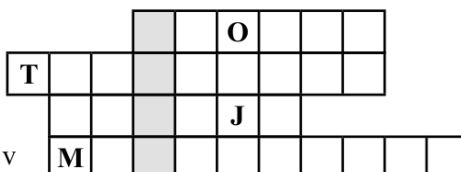
3. Vyznač na časové ose tyto události

1. Počátek osvícenství.
2. Vláda Marie Terezie.
3. Zavedení povinné školní docházky.
4. Vydání tolerančního patentu a patentu o zrušení nevolnictví.
5. První parní železnice v českých zemích.



4. 19. století bývá někdy označováno jako „století _____“ (doplňte slovem, které získáte v tajence po vyluštění křížovky).

Jméno vynálezce bleskosvodu
 Manufaktury byly nahrazeny
 V továrnách se užívaly
 Strojová výroba se uplatňovala i v



PŘÍRODOVĚDA - opakování

Podpis: _____

1. Napiš, co patří mezi základní podmínky života na Zemi?

1. _____ 2. _____ 3. _____ 4. _____

2. Do ŽIVÉ přírody patří?

a) Houby, rostliny a živočichové b) Nerosty a horniny c) Vzduch

3. Do NEŽIVÉ přírody patří?

a) Liška obecná b) Nerosty a horniny c) Skokan hnědý

4. Při fotosyntéze se přeměňuje?

a) Kyslík na oxid uhličitý b) Oxid uhličitý na kyslík c) Dusík na oxid uhličitý

5. Mezi obnovitelné zdroje elektrické energie patří?

a) Vodní, sluneční a větrné elektrárny b) Tepelné elektrárny c) Jaderné elektrárny

6. Mezi vodiče elektrické energie patří?

a) Dřevo b) Guma c) Kov

7. Napiš, která hvězda je naší planetě nejbližší? _____

8. Napiš, proč je pro nás tato hvězda tak důležitá a jaký má význam pro rostliny?

Význam:

9. Vyjmenuj planety sluneční soustavy.

1. _____ 2. _____ 3. _____ 4. _____
 5. _____ 6. _____ 7. _____ 8. _____

1. Doplň: (Měsíc, 29,5, den, jaro, Slunce, 24, léto, oběžné, 365, podzim, noc, osy, 1, zima, 1, 1, měsíční, roční období)

Země se otáčí kolem své _____. Jedna otočení trvá _____ hodin = _____ den.

Střídá se tak _____ a _____.

Země obíhá kolem _____ po _____ dráze.

Jedno oběhnutí trvá _____ dní = _____ rok.

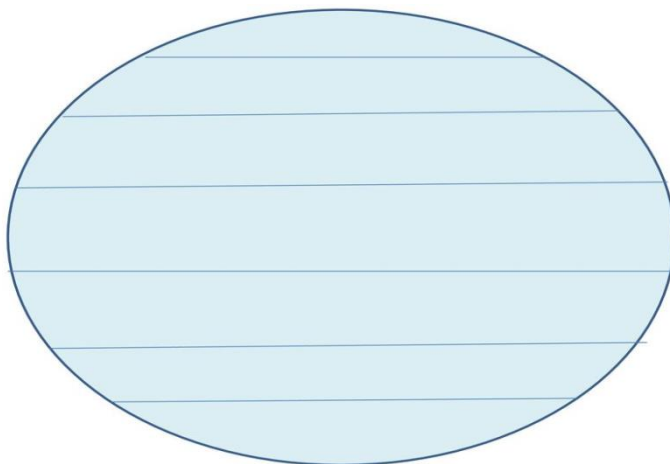
Střídají se tak _____. To jsou _____, _____, _____, _____.

Kolem Země obíhá _____.

Jedno oběhnutí trvá _____ dní = _____ měsíc.

Střídají se tak _____ fáze.

2. Doplň názvy podnebných pásů a napiš ve kterém leží ČR.



Česká republika leží v _____.

3. Krajinu v tropickém podnebném pásu dělíme na:

- a) Stepi, listnaté, smíšené lesy a jehličnaté lesy b) Savany, pouště a tropické deštné lesy
c) Nijak ji nedělíme

4. V tropickém podnebném pásu nalezneme tato zvířata a rostliny:

- a) Gorila, los, modřín, dub b) Gorila, fenek, orchidej, kaktus c) Gorila, papoušek, kukuřice, javor

5. Krajinu v mírném podnebném pásu dělíme na:

- a) Savany, pouště a tropické deštné lesy b) Stepi, listnaté, smíšené lesy a jehličnaté lesy
c) Nijak ji nedělíme

6. V mírném podnebném pásu nalezneme tato zvířata a rostliny:

- a) Sob, liška polární, bavlnovník, liány b) Velbloud, žirafa, mechy, lišejníky
b) Osel, jelen, pšenice, bříza

7. Krajinu v subtropickém podnebném pásu dělíme na:

- a) Savany, pouště a tropické deštné lesy b) Stepi, listnaté, smíšené lesy a jehličnaté lesy
c) Nijak ji nedělíme

8. Krajinu v subtropickém podnebném pásu dělíme na:

- a) Savany, pouště a tropické deštné lesy b) Stepi, listnaté, smíšené lesy a jehličnaté lesy
c) Nijak ji nedělíme

9. Krajinu v polárním podnebném pásu dělíme na:

- a) Savany, pouště a tropické deštné lesy b) Stepi, listnaté, smíšené lesy a jehličnaté lesy
c) Nijak ji nedělíme

10. Krajina v polárním podnebném páse je po celý rok pokryta:

- a) Pískem nebo trávou b) Kamením c) Ledem

11. Do polárního pásu nepatří? (škrtni je)

Medvěd, Sob, Los, Vlk, Tuleň, Tučňák, Leguán, Surikata, Palma, Cedr, Levandule, Lišejník, Mech, Žralok, Kuna

HUDEBNÍ VÝCHOVA

A Jméno: _____

1. Tato nota se jmenuje



e¹
d¹
h¹

2. Tato nota se jmenuje



g¹
f¹
a¹

3. Tato nota se jmenuje



e¹
g¹
c¹

4. Tato nota se jmenuje



a¹
h¹
d¹

5. Tato nota se jmenuje



c¹
c²
a¹

6. Tato nota se jmenuje



e¹
f¹
g¹

7. Tato nota se jmenuje



f¹
a¹
h¹

8. Tato nota se jmenuje



g¹
f¹
d¹

B Jméno: _____

1. Tato nota se jmenuje



g¹
f¹
e¹

2. Tato nota se jmenuje



d¹
e¹
c¹

3. Tato nota se jmenuje



h¹
a¹
f¹

4. Tato nota se jmenuje



g¹
d¹
f¹

5. Tato nota se jmenuje



f¹
h¹
g¹

6. Tato nota se jmenuje



f¹
e¹
g¹

7. Tato nota se jmenuje



d¹
g¹
a¹

8. Tato nota se jmenuje



c¹
f¹
c²