

**ZÁKLADNÍ ŠKOLA ÚSTÍ NAD LABEM, HLAVNÍ 193, 403 31**Tel.:472731819, 472731253 Tel.řed./fax:472731480, e-mail:skola@zsmojzir.cz**ÚKOLY 15. 2. – 19. 2. 2021 (5. A, 5. B)****Nezapomeň podepisovat všechny své papíry: jméno, příjmení a třídu****➤ ČESKÝ JAZYK**

- UČ str. 41 přečíst modrý rámeček (je i vlepený ve školním sešitě)
- UČ str. 41 cv. 1 (přepsat do školního sešitu)
- 5. A: čítanka str. 67-69 „Nebezpečí lavin“ – do sešitu na čtení napsat nadpis, autora odpovědět na přiložené otázky a nakreslit obrázek k textu
- 5. B: čítanka str. 76-78 „Docela malá zemětřesení“ – do sešitu na čtení napsat nadpis, autora, odpovědět na otázky pod textem a nakreslit obrázek k textu

➤ MATEMATIKA

- učebnice str. 48 ZLOMKY – pročíst si
- PL: ZLOMKY (pracuj dle zadání)
Slovní úlohy

➤ ANGLICKÝ JAZYK

- pracovní list

➤ PŘÍRODOVĚDA

- pracovní list – práce s učebnicí str. 50-51 „Třídění živých organizmů“ ŽIVOČICHOVÉ

➤ VLASTIVĚDA

- učebnice str. 19-21 (písemně odpovědět na otázky vlepené do sešitu)


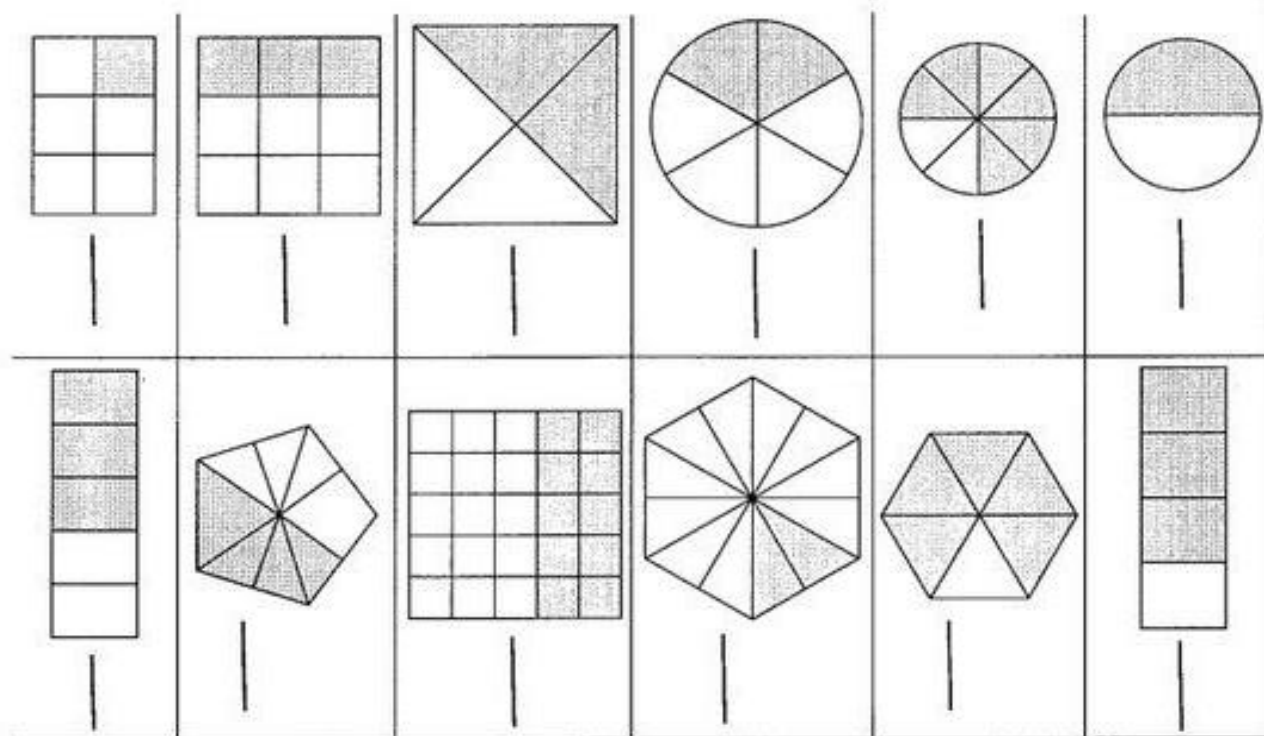
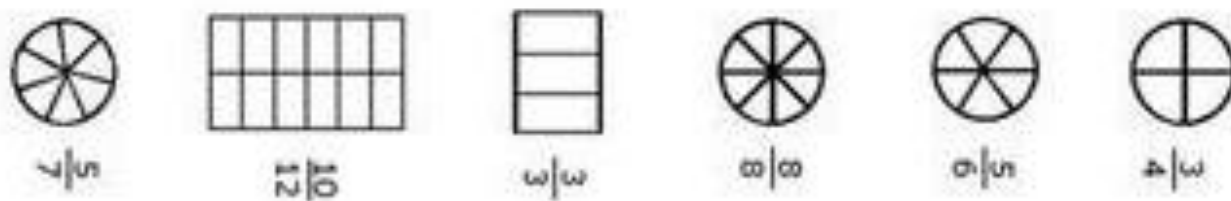
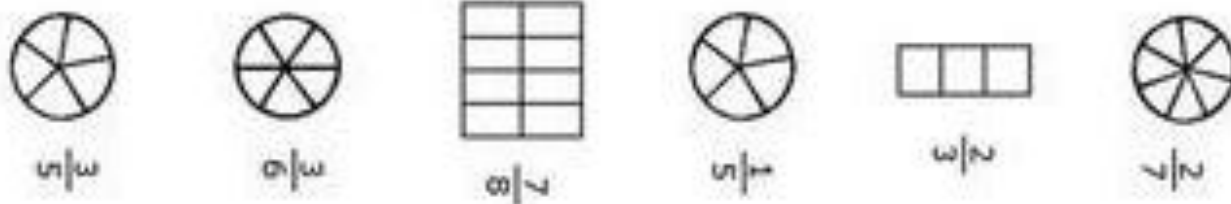
➤ INFORMATIKA

- pracovní list

ÚKOLY ODEVZDAT V PONDĚLÍ 22.2.2021 MEZI 9 A 11 HODINOU**KDO NEBYL VE ŠKOLE, ODEVZDÁ HNĚDOU UČEBNICI VLASTIVĚDY.
DONESTE ŽAKOVSKOU KNÍŽKU.****Možnost dalšího procvičování:**<https://sites.google.com/view/nametykprocvicovani/domovsk%C3%A1-str%C3%A1nka>

MATEMATIKA

Podpis: _____



34. Eva dostala k narozeninám panenku za 81 Kč. Monika dostala míček za 9 Kč. Kolikrát levnější byl míček Moniky než panenka Evy?



zápis : panenka 81 Kč
 míček 9 Kč
 kolikrát méně x Kč

výpočet : _____

odpověď : _____

35. Čtyři žáci mají zasadit 24 sazenic. Kolik sazenic zasadí každý žák? Doplň zápis, sestav příklad a odpověz.


zápis: počet žáků
 počet všech sazenic
 jeden žák sazenic

výpočet : _____

odpověď : _____



36. Nad domy letělo 40 havranů. Na každou anténu si sedlo 8 havranů. Na kolika anténách havrani seděli?



zápis: _____

výpočet : _____

odpověď : _____

ANGLICKÝ JAZYK

Počítatelná a nepočítatelná podst. jména (Countable and uncountable nouns)

Jak počítat nepočítatelná podstatná jména

ČTI: V minulých lekcích jsme si vysvětlili, jaký je rozdíl mezi počítatelnými(countable) a nepočítatelnými (uncountable) podstatnými jmény.

Abychom mohli spočítat ty nepočítatelné, použijeme nějakou **jednotku**. Např. u vody použijeme láhev, a pak už jsme schopni určit, kolik těch lahví s vodou je. Např.: **3 bottles of water**



1. Translate words for the measurement. (Přelož jednotky.)

- | | |
|------------------------|------------------------|
| a) a bottle of - _____ | f) a loaf of - _____ |
| b) a cup of - _____ | g) a glass of - _____ |
| c) a tin of - _____ | h) a piece of - _____ |
| d) a packet of - _____ | i) a slice of - _____ |
| e) a bar of - _____ | j) a carton of - _____ |

2. Translate (Přelož)

- | | | |
|----------------------|------------------|------------------|
| k) Chocolate - _____ | o) Bread - _____ | s) Ham - _____ |
| l) Water - _____ | p) Milk - _____ | t) Flour - _____ |
| m) Cereal - _____ | q) Soup - _____ | u) Cake - _____ |
| n) Pizza - _____ | r) Coke - _____ | v) Juice - _____ |

3. Fill in the correct words for the measurement. (Doplň správné jednotky.)



4. Translate and fill in the shopping list. (Přelož do angličtiny a doplň do nákupního seznamu.)

- 2 láhve vody
- 1 krabici mléka
- 4 balení šunky
- 1 krabici cereálií
- 1 balení mouky
- 2 kousky dortu
- 3 tabulky čokolády
- 2 plechovky limonády
- 1 bochník chleba
- 10 kousků kuřecích kousků
- 6 plátků sýra

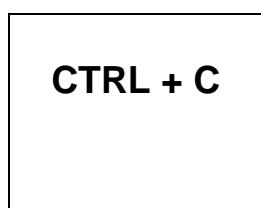


Distanční výuka – 5. ročníky**Téma:** Klávesové zkratky - kartičky**Pomůcky:** pracovní list, nůžky, fixy/pastelky

Tento týden si vyrobíme pomůcku na informatiku.

Popis činnosti:

Pomůcku si připravíme tak, že pracovní list nastříháme na jednotlivé kartičky, které jsou předrýsované. Kartičky budou utvořené tak, že z jedné strany kartičky napíšete klávesovou zkratku a z druhé strany bude její význam. Viz ukázka níže.



1. STRANA



2. STRANA

Připomeň si:

Klávesové zkratky jsou pomocníkem při práci s počítačem. Klávesové zkratky vám ušetří spoustu času, stačí si je jen zapamatovat. Používáme je při práci s dokumenty i obrázky.

Shift v kombinaci s jinou klávesou slouží k psaní velkých písmen, háčků.

Ctrl v kombinaci s A označí celý text. Ctrl v kombinaci s C zkopíruje vybraný text nebo objekt. Ctrl v kombinaci s V vloží text nebo objekt. Ctrl v kombinaci s X vyjme vybraný text nebo objekt.

Alt v kombinaci s F4 zavře okno.

Klávesové zkratky

Ctrl + C	kopírovat
Ctrl + V	vložit
Ctrl + A	označení celého dokumentu
Ctrl + X	vyjmout
Ctrl + Z	zpět
Ctrl + S	uložit
Ctrl + P	tisk
Ctrl + O	otevře dokument

KARTIČKY

VLASTIVĚDA

Napiš odpovědi na otázky

1. Jak se dělilo venkovské obyvatelstvo?
2. Popište venkovskou chalupu.
3. Co tehdy venkované jedli, jak se oblékali?
4. Které venkovské zvyky vás nejvíce zaujaly? Napiš alespoň dva a popiš je.

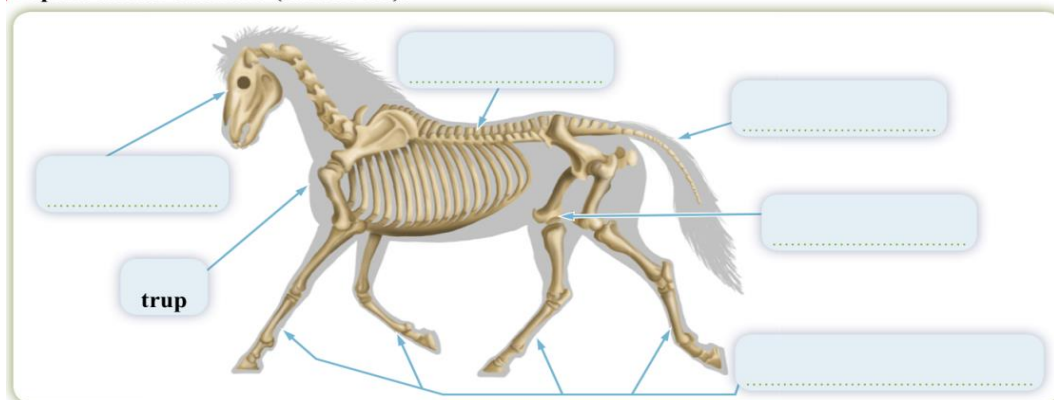
4. Živočichové

- dělí je na dvě skupiny A) obratlovci B) bezobratlí

A) OBRATLOVCI

- mají _____, základem je _____, složená z jednotlivých částí, kterým se říká _____

Popište stavbu těla koně (obratlovce).



- dělíme je _____, _____, _____, _____, _____

- Ryby

- mohou žít pouze ve _____, tělo mají pokryté _____

- například: _____, _____

- Obojživelníci

- žijí na souši, dýchají _____, ale vajíčka kladou do vody a jejich larvy žijí ve vodě, kde dýchají _____

- například: _____, _____, _____

- Plazi

- dýchají _____, tělo mají pokryté _____

- například: _____, _____, _____

- Ptáci

- mají tělo přizpůsobené k _____ a jsou pokryti _____

- přední končetiny jsou přeměny na _____, čelisti v _____

- dýchají _____

- Savci

- je jich několik tisíc druhů, patří mezi ne i člověk


- rodí _____ mláďata, po narození sají _____

- dýchají _____

B) BEZOBRATLÍ

- nemají _____
- oporu těla zabezpečují _____ a _____
- je jich více než obratlovců
- nejpočetnější třídou je _____

Popište stavbu těla včely medonosné (bezobratlého živočicha).



ÚKOL: Spoj barevně, co k sobě patří

Bělásek zelný	vážky
Slunéčko sedmítečné	
Střevlík	blanokřídlí
Komár	
Mravenec lesní	motýli
Roháč	
Moucha domácí	brouci
Babočka admirál	
Vážka ploská	dvoukřídlí