

**ZÁKLADNÍ ŠKOLA ÚSTÍ NAD LABEM, HLAVNÍ 193, 403 31**

Tel.:472731819, 472731253 Tel.řed./fax:472731480, e-mail:skola@zsmojzir.cz

ÚKOLY 11. 1. – 15. 1. 2021 (5. A, 5. B)**Nezapomeň podepisovat všechny své papíry: jméno, příjmení a třídu****➤ ČESKÝ JAZYK**

- UČ str. 38 cv. 5 (do domácího sešitu)
- UČ str. 40 přečti si tuto stranu, vyber si jakoukoli věc a popiš ji, napiš alespoň 8 vět (do sešitu na sloh)
- Čítanka str. 100 – 101 „Švédové před branami“
102 – 104 „Psohlavci“

➤ MATEMATIKA

- UČ modrá str. 27 cv. 8
str. 28 cv. 4
str. 30 cv. 3,4

Jsou to slovní úlohy (zápis, výpočet, odpověď). Napiš do školního sešitu.

➤ ANGLICKÝ JAZYK

- pracovní list

➤ PŘÍRODOVĚDA

- pracovní list – práce s učebnicí str. 38 - 40

➤ VLASTIVĚDA

- UČ zelená str. 9-11 Doba Pobělohorská
- Pracovní list

➤ INFORMATIKA

- pracovní list

➤ HUDEBNÍ VÝCHOVA

- pracovní list vlepený v notovém sešitě

➤ VÝTVARNÁ VÝCHOVA + PRAKTICKÉ ČINNOSTI

- nakresli, jak doma pomáháš s úklidem na přiložený papír

ÚKOLY ODEVZDAT V PONDĚLÍ 18.1.2021 MEZI 9 A 11 HODINOU VE VESTIBULU ŠKOLY.**KDO NEBYL VE ŠKOLE, ODEVZDÁ HNĚDOU UČEBNICI VLASTIVĚDY.
DONESTE ŽAKOVSKOU KNÍŽKU.**

Možnost dalšího procvičování:

<https://sites.google.com/view/nametykprocvicovani/domovsk%C3%A1-str%C3%A1nka>

VLASTIVĚDA

1. DOBA POBĚLOHORSKÁ

Už víme, že:

Bitva na Bílé hoře rozhodla na dlouhá tři staletí o osudu českého národa. České země nadále zůstávaly součástí habsburské říše. Život lidí po skončení třicetileté války byl nesmírně těžký. Zvláště život poddaných na vesnici se velmi zhoršil.

Badatelské úkoly:

- Zjistěte si, kdy byla založena nebo od kdy existuje první písemná zpráva o vaší obci.

Otázky a úkoly:

1. Vytvořte správné dvojice událost + datum (pomocí spojení číslovek a písmen).

Událost: konec třicetileté války (1), popravy na Staroměstském náměstí v Praze (2), bitva na Bílé hoře (3), počátek třicetileté války (4). _____
 Datum: 8. 11. 1620 (A), 1648 (B), 21. 6. 1621 (C), 1618 (D). _____

2. Vyluštěte tajenku:

Vládnoucí rod na českém trůně

Nejvyšší panovnický titul

Součást zámku

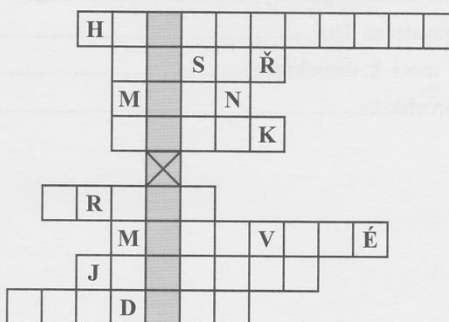
Obydlí šlechtý

Město nedaleko Bílé hory

Udatní bojovníci na Bílé hoře

Dřívější název trhu

Většinu obyvatel na vesnici tvořili



3. Určete, která odpověď na uvedené tvrzení je správná. Po zjištění správné odpovědi zakroužkujte dané písmeno; z těchto písmen vám vyjde tajenka.

K bitvě na Bílé hoře došlo 8. listopadu 1620.

- CH) ano
- M) ne

Habsburkové vládli na českém trůně dvě stě let.

- L) ano
- O) ne

Třicetiletá válka skončila v roce 1648.

- A) ne
- D) ano

Habsburkové podporovali jen katolické náboženství.

- O) ano
- K) ne

Poddaní se mohli volně stěhovat a prodávat své výrobky.

- V) ne
- C) ano

Řemeslníci ve městech se sdružovali v cechy.

- É) ano
- U) ne

PŘÍRODOVĚDA

PODPIS: _____

➤ **Subtropický pás**

- Nachází se mezi _____ a _____
 - Je zde velmi _____ nejen ve _____, ale i v _____
 - Jsou zde příznivé podmínky pro _____
- Vyber si 3 zvířata, nakresli a popiš je:

➤ **Mírný pás**

- V jediném se střídají čtyři roční období _____, _____, _____ a _____

• **Stepi**

- Jsou prorostlé převážně _____
 - Nedaří se zde stromům, protože zde spadne velmi málo _____
 - Jsou to rozsáhlá _____, kde se pěstují _____
- Vyber si 3 zvířata, nakresli a popiš je:

• **Listnaté a smíšené lesy**

- Oblasti s _____ a _____ podnebím
 - Rozprostírají se v _____ oblastech _____ pásu
 - Nalezneme je v níže položených oblastech _____
- Vyber si 3 zvířata, nakresli a popiš je:

• **Jehličnaté lesy**

- Nacházejí se v _____ oblasti _____ pásu
 - Nejsevernější část jehličnatých lesů se nazývá _____
- Vyber si 3 zvířata, nakresli a popiš je:

1) Spoj osobní zájmeno a sloveso být („to be“) s jeho anglickým protějškem:









my jsme
 on je
 ona je
 oni jsou
 ty jsi
 vy jste
 ono je
 já jsem

it is
 he is
 I am
 we are
 they are
 she is
 you are
 you are

2) V levém sloupečku přelož do angličtiny a potom správně doplň do obrázku.

Nápověda: Jsou zde i záporny, zápor tvoříme pomocí slovíčka „not“ (např.: Já nejsem – I am not)

on není
 ty jsi
 (ona) je
 my nejsme
 to není
 (oni) jsou
 já jsem
 (ono) je
 (oni) nejsou
 vy jste
 (ony) jsou
 jsme (my)?

 24	I _____ a happy girl.	 25	We _____ in the school bus.
 26	You _____ a clever boy.	 27	You _____ in the living room.
 28	She _____ five years old.	 29	They _____ in love.
 30	He _____ hungry.	 31	It _____ my dog.

3) Do vět doplň správné tvary slovesa „to be“:

Nápověda: Jsou zde nevyjádřené podmínky, takže se na něj musíme zeptat „Kdo co?“ např.: (Jmenuje se Honza – Kdo se jmenuje Honza? -> On.... His name is Honza).

I fine.

His name Peter.

She a student.

Her cars small.

Sue wet.

They the champions.

I at school.

My brother at home.

My friends over there.

Your fathers at work.

My Mum and Dad slim.

It a word.

They from Europe.

Marry..... 8 years old.

Her granny short.

They ready.

Peter very happy.

Their house big.

We good at Maths.

You good girls.

Our school white.


His room gre

HUDEBNÍ VÝCHOVA

2. Noty

 tato nota je _____ a počítá se na jednu dobu.

 tato nota je _____ a počítá se na dvě doby.

 tato nota je _____ a počítá se na čtyři doby.

Zakroužkuj noty, které jsou správně.



PŮLOVÁ CELÁ ČTVRŤOVÁ CELÁ ČTVRŤOVÁ

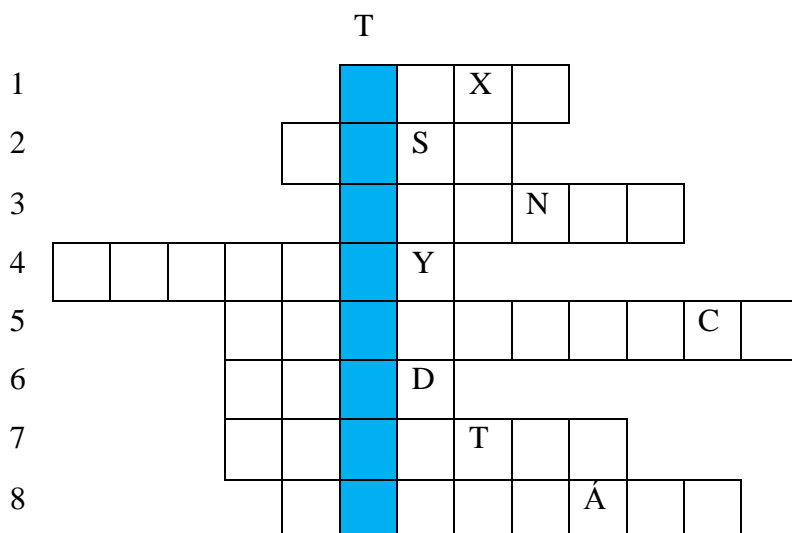


CELÁ ČTVRŤOVÁ CELÁ PŮLOVÁ CELÁ

Jméno, třída: _____

Informatika

Křížovka



1. Můžeme ho napsat, upravovat ve Wordu.
2. Zkratka Ctrl + P slouží pro....?
3. Vstupní zařízení počítače, které kopíruje dokument a zobrazí ho na monitoru.
4. Můžeme je stahovat a vkládat do Wordu.
5. Vstupní zařízení určené pro vkládání znaků do počítače a k jeho ovládní.
6. Textový editor, který umožňuje tvorbu a nejrůznější úpravy psaného textu, do kterého lze vkládat různé objekty jako třeba obrázky, grafy.
7. Základní výstupní zařízení sloužící k zobrazování textových a grafických informací.
8. Pomocí této aplikace lze kreslit různé čáry a tvary v různých barvách a tvořit tak jednoduché obrázky.

Doplňte tajenku do věty.

Počítačová je výstupní zařízení, které slouží k přenosu dat uložených v elektronické podobě na papír.